

Муниципальное бюджетное дошкольное образовательное учреждение  
общеразвивающего вида Детский сад «Солнышко»

# Веселая математика

(2 младшая группа)

Подготовила: воспитатель

Черкашина Г.Н.

**Цель:** формирование элементарных математических представлений у детей в совместной игровой деятельности.

**Задачи:**

-формировать первичные математические представления, об основных свойствах и отношениях объектов окружающего мира ; форме, цвете, размере, количестве.

-формировать представления о порядковом счете, отвечать на вопросы «Сколько?», «Который по счету», «На каком месте?»;

● Запомни цифру **1**.



● Слепи цифру из пластилина.



● Сложи цифру **1** из подручных материалов.



● Сколько пальцев показано?


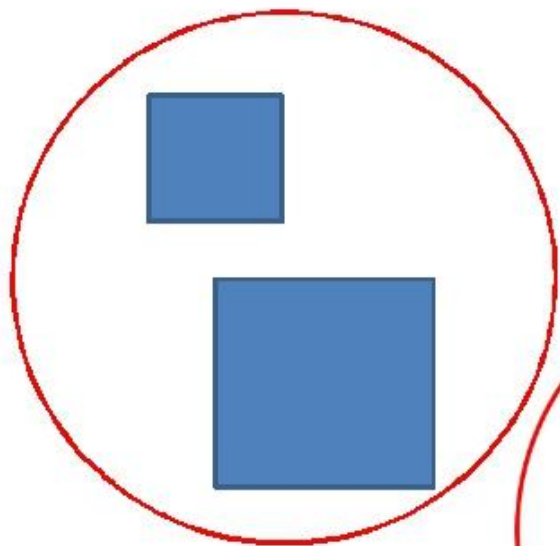


● Сколько рыбок в аквариуме?




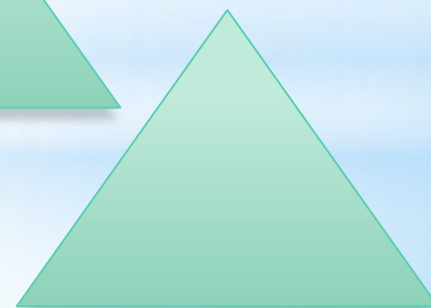



● Сколько цветков в горшке?





2







3

2



1


1

2

3

4

Наклей в пруду **зелёных** лягушек. Сколько лягушек на картинке? **Четыре** зелёные лягушки. Запомни цифру **4**.



1



3



2



4



2

1

3

4






= <

4 > 3

Что изображено на картинке?  
Сколько яблок на картинке?

3



1

2


4

# Задача в стихах

- Три яблока из сада
- Ежик притащил.
- Самое румяное
- Белке подарил.
- С радостью подарок
- Получила белка.
- Сосчитайте яблоки
- У ежа в тарелке?



# Веселые задачи




## Белки и орех

Белки для потехи  
Щёлкали орехи.  
Как расколется орех,  
Слышен белок звонкий  
смех!

Сосчитать бы только  
Раскололи сколько?  
Посчитай ещё и те,  
Что остались в скорлупе.

Покажи самую низкую елочку, среднюю, самую высокую. Какой грибок под какой елочкой растет?



Покажи, какая бабочка на какой цветок сядет?  
Покажи самую большую бабочку,  
среднюю, самую маленькую.





Сколько на полянке гуляет кошечек, а сколько собачек?  
Сколько всего животных на картинке?



Сколько на картинке нарисовано островов, сколько пальм  
и сколько рыбок? Наклей ещё одну рыбку.  
Сколько рыбок у тебя получилось?



Сколько на картинке цветочков? А сколько бабочек?  
Покажи цифру 1. Наклей на страничку одну божью коровку.





Сколько корабликов нарисовано на страничке?  
Напиши цифру 2.




Сколько лягушат нарисовано на картинке?  
Сосчитай, сколько стрекоз, камышей и кувшинок.  
Сколько на страничку нужно наклеить кувшинок,  
чтобы их было три?





Покажи столько пальчиков, сколько животных изображено на рисунке. Раскрась столько треугольников, сколько стогов сена на лугу.



Творческих Вам успехов!



- Спасибо за внимание

