

Муниципальное бюджетное дошкольное образовательное учреждение детский сад «солнышко» общеразвивающего вида


---

## Математические задачи по ФЭМП в подготовительной группе

Воспитатель: Черкашина О.И.

2020г

Что здесь нарисовано? Из каких геометрических фигур составлен кораблик?  
Сколько в рисунке треугольников? Сколько кругов? Сколько квадратов? Сравните количество кругов и квадратов.



## Математические задачи

---

известно, что сапожек не носит кошка,  
но мама купила кошке сапожки.

Сколько сапожек мама купила,  
чтобы кошка ножки не замочила? (4)

сколько ног у птиц? (2)

сколько лап у собак? (4)


сколько ног у насекомых? (6)

сколько ног у паука? (8)

у кого больше ног?


## Упражнение «Продолжи узор»

Какие геометрические узоры здесь нарисованы?  
Продолжите узор



# Игра «собери бусы»

---



# Игра «больше – меньше»

Назови все овощи, назови все фрукты.

Сколько здесь фруктов?

Сколько овощей?

Чего больше, овощей или фруктов?

